

آزمون شماره: (۸)

تاریخ برگزاری: ۱۳۹۴/۰۲/۲۴

صفحه: (۱)

کانون ریاضیدانان زمان



المپیاد ریاضی

نام: نام خانوادگی: شماره کارت: زمان پاسخگویی: ۱۲۰ دقیقه
مقطع: ابتدایی پایه: اول درس: ریاضی تعداد سوالات: ۱۲ واحد نمایندگی:

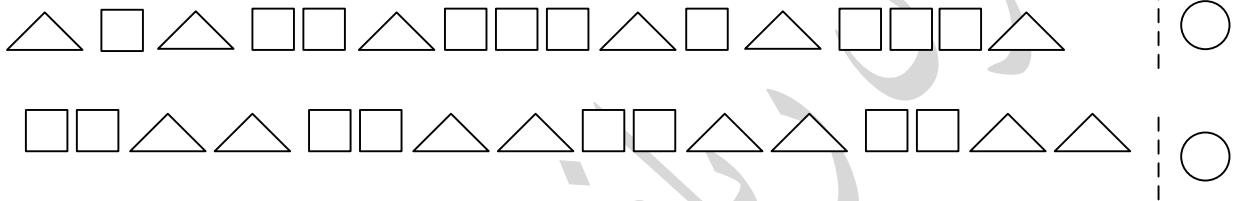
قابل توجه دانش آموزان عزیز

ثبت نام کلاس های ترم تابستانه و کلاس های ترم اول طرح طلایی تیزموشان از اول خردادماه آغاز می شود. شما می توانید اطلاعات کامل نحوه ی ثبت نام و برنامه ی کلاس ها را به همراه کتاب های ممتاز تابستانه و کتاب ریاضی تیزموشان جلد (۱)، از نمایندگی های رسمی کانون در سراسر کشور دریافت نمایید.



نصره

۴

۱) کدام شکل الگوی مشخصی دارد؟ در داخل علامت بزن .



۲) دسته های ده تایی جدا کن. هر دسته چند شکل دارد؟ با چوب خط نشان بده و عدد هر دسته را بنویس.





کانون ریاضداناان زمان

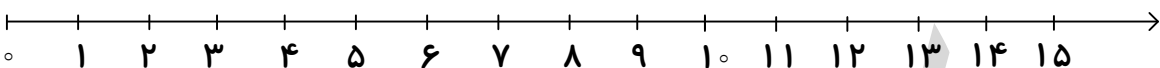


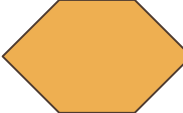


المپیاد ریاضی

آزمون شماره: (۸)

تاریخ برگزاری: ۱۳۹۴/۰۲/۲۴

صفحه: «۲»

نام: نام خانوادگی: شماره کارت: زمان پاسخگویی: ۱۲۰ دقیقه
مقطع: ابتدایی پایه: اول درس: ریاضی تعداد سوالات: ۱۲ واحد نمایندگی:

۷	<p>۳) به کمک محور، جمع و تفریق زیر را انجام بده.</p>  <p style="text-align: center;">$11 - 6 + 9 = \text{-----}$</p>
۴	<p>۴) کدام عدد با ۳ یکی و ۶ ده‌تایی برابر است؟ علامت ✓ بزن.</p> <p style="text-align: center;"> <input type="radio"/> ۳۶ <input type="radio"/> ۶۳ <input type="radio"/> ۶۲ <input type="radio"/> ۳۲ </p>
۲ ۲ ۲	<p>۵) به سوالات زیر پاسخ بده.</p> <p>الف) یک دست و دو پا چند انگشت دارد؟</p> <p>ب) عدد ۷۴ چند تا بیش‌تر از عدد ۶۸ است؟</p> <p>ج) عددی بنویس که ۵ تا بیش‌تر از عدد ۴۲ باشد.</p>
۸	<p>۶) معلم به هر دانش‌آموز یک مداد داد. سه دسته‌ی ۱۰ تایی و ۴ تا استفاده شد. این کلاس چند دانش‌آموز دارد؟</p>
۱۰	<p>۷) هر کدام از شکل‌های زیر، چند لبه و چند گوشه دارد؟ بنویس.</p> <div style="display: flex; justify-content: space-around; align-items: center;">      </div> <div style="display: flex; justify-content: space-around; margin-top: 10px;"> <div style="border: 1px solid black; border-radius: 50%; width: 40px; height: 40px;"></div> <div style="border: 1px solid black; border-radius: 50%; width: 40px; height: 40px;"></div> <div style="border: 1px solid black; border-radius: 50%; width: 40px; height: 40px;"></div> <div style="border: 1px solid black; border-radius: 50%; width: 40px; height: 40px;"></div> <div style="border: 1px solid black; border-radius: 50%; width: 40px; height: 40px;"></div> <div style="border: 1px solid black; border-radius: 50%; width: 40px; height: 40px; text-align: center;">گوشه</div> </div> <div style="display: flex; justify-content: space-around; margin-top: 10px;"> <div style="border: 1px solid black; border-radius: 50%; width: 40px; height: 40px;"></div> <div style="border: 1px solid black; border-radius: 50%; width: 40px; height: 40px;"></div> <div style="border: 1px solid black; border-radius: 50%; width: 40px; height: 40px;"></div> <div style="border: 1px solid black; border-radius: 50%; width: 40px; height: 40px;"></div> <div style="border: 1px solid black; border-radius: 50%; width: 40px; height: 40px;"></div> <div style="border: 1px solid black; border-radius: 50%; width: 40px; height: 40px; text-align: center;">لبه</div> </div>



کانون ریاضیدانان زمان

المپیاد ریاضی

آزمون شماره: (۸)

تاریخ برگزاری: ۱۳۹۴/۰۲/۲۴

صفحه: (۴)

نام: نام خانوادگی: شماره کارت: زمان پاسخگویی: ۱۲۰ دقیقه
مقطع: ابتدایی پایه: اول درس: ریاضی تعداد سوالات: ۱۲ واحد نمایندگی:

۱۲) به یکی از دو سؤال زیر پاسخ دهید.

۱۰) ★ (۱) جواب جمع و تفریق‌ها را بنویس و علامت مناسب را انتخاب کن.

$$۲۵ + ۵ + ۱۰ = \square$$

$$> = <$$

$$۳۰ + ۵ + ۱۵ = \square$$

$$۱۰ + ۸ - ۳ = \square$$

$$> = <$$

$$۲۰ - ۱۰ + ۵ = \square$$

$$۳۰ - ۲۰ + ۶۰ = \square$$

$$> = <$$

$$۴۰ + ۵۰ - ۳۰ = \square$$

۱۰) ★ (۲) دفتر مشق سامان ۳۰ برگ دارد. چند روز پیش در ۲۰ صفحه از این دفتر، مشق نوشته است.

الف) اکنون دفتر مشق سامان چند صفحه سفید دارد؟

ب) اگر سامان امروز ۱۰ صفحه‌ی دیگر از دفتر مشق خود را بنویسد، دفتر او چند برگ سفید خواهد داشت؟

سرفراز و پیروز کام باشید ☺

دپارتمان ابتدایی