



نام: نام خانوادگی: شماره کارت: زمان پاسخگویی: ۱۲۰ دقیقه
مقطع: ابتدایی پایه: اول درس: ریاضی تعداد سوالات: ۱۸ واحد نمایندگی:

نماندگی های رسمی کانون در سراسر کشور، از دانش آموزان جهت شرکت در کلاس های ترم پانزده همراه ارائه ی کتاب های ممتاز کانون و حضور در المپیاد های ریاضی ثبت نام می نمایند.


نمره	
۵	۱- توپ های خارج سبد را رنگ کنید. 
۶	۲- یک خط بسته بکشید، به طوری که عضو چشیدن داخل آن و عضو شنیدن خارج آن قرار گیرد. 
۶	۳- پرنده ی سمت راست را داخل خط بسته و گربه ی سمت چپ را داخل خط باز قرار دهید. 



نام: نام خانوادگی: شماره کارت: زمان پاسخگویی: ۱۲۰ دقیقه
مقطع: ابتدایی پایه: اول درس: ریاضی تعداد سوالات: ۱۸ واحد نمایندگی:

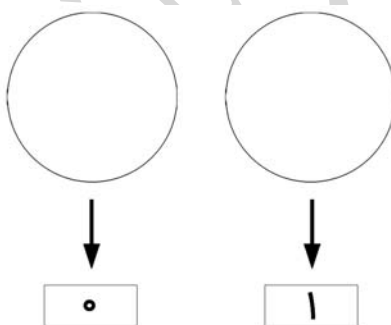
۶

۴- شکل‌هایی را که در یک ردیف قرار دارند، رنگ کنید.



۶

۵- برای هر عدد شکل مناسب بکشید.





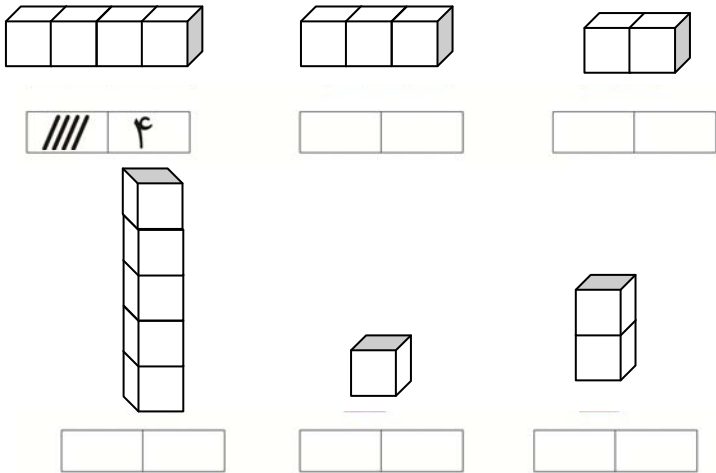
۶

۶- حیوانات را داخل یک خط بسته قرار دهید.





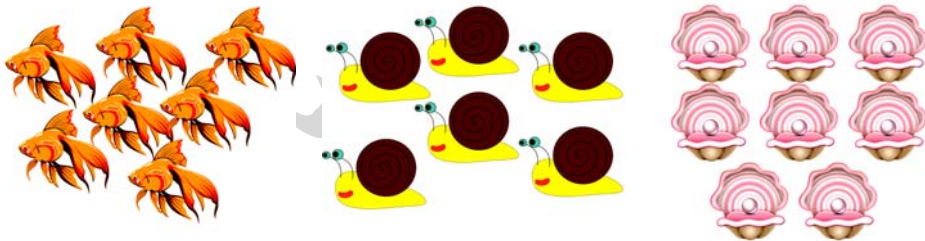
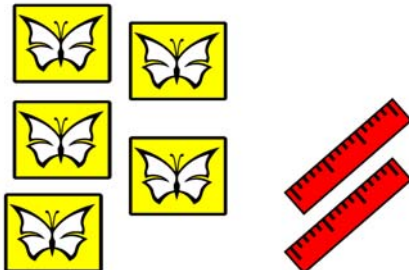


نام: نام خانوادگی: شماره کارت: زمان پاسخگویی: ۱۲۰ دقیقه
 مقطع: ابتدایی پایه: اول درس: ریاضی تعداد سوالات: ۱۸ واحد نمایندگی:

<p>۶</p>	<p>۷- کدام شکل با بقیه تفاوت دارد؟</p> 
<p>۶</p>	<p>۸- تعداد مسواک‌ها بیشتر است یا تعداد خمیردندان‌ها؟ (راهنمایی: کودک باید بین اشکال تناظر یک به یک ایجاد کند، سپس آن‌ها را با هم مقایسه کند.)</p> 
<p>۶</p>	<p>۹- هر چینه، چه عددی را نشان می‌دهد؟ مانند نمونه ابتدا با چوب‌خط نشان دهید، سپس عدد مربوط به هر یک را بنویسید.</p> 



نام: نام خانوادگی: شماره کارت: زمان پاسخگویی: ۱۲۰ دقیقه
مقطع: ابتدایی پایه: اول درس: ریاضی تعداد سوالات: ۱۸ واحد نمایندگی:

۶	<p>۱۰- چند گل بخریم تا ۴ گل داشته باشیم؟</p> 
۶	<p>۱۱- شکلی را که تعداد آن بیش تر است، با چوب خط نشان دهید.</p> 
۶	<p>۱۲- دور شکل مربوط به عدد ۷ خط بکشید.</p> 
۶	<p>۱۳- فاطمه ۲ خط کش و ۵ شابلون دارد. فاطمه روی هم چند خط کش و شابلون دارد؟</p> 

کانون ریاضیدانان زمان


المپیاد ریاضی



نام: نام خانوادگی: شماره کارت: زمان پاسخگویی: ۱۲۰ دقیقه
مقطع: ابتدایی پایه: اول درس: ریاضی تعداد سوالات: ۱۸ واحد نمایندگی:


۶

۱۴- دسته‌های ۹ تایی درست کنید.



۶

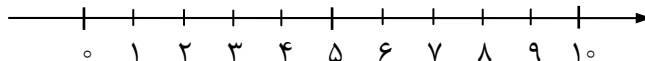
۱۵- ۸ پرنده در آسمان پرواز می‌کردند. ۲ پرنده روی درخت نشستند. اکنون چند پرنده در آسمان در حال پرواز هستند؟



۶

۱۶- محور اعداد را کامل کنید و عبارت زیر را روی آن نشان دهید.

$$۱۰ - ۷ = \square$$

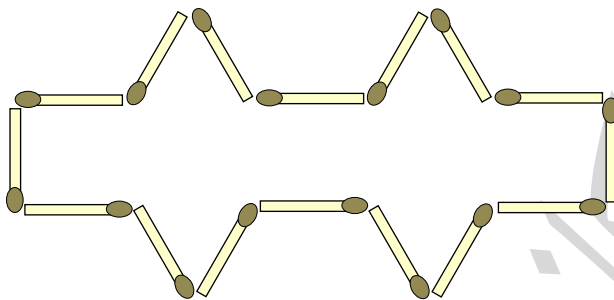




نام: نام خانوادگی: شماره کارت: زمان پاسخگویی: ۱۲۰ دقیقه
مقطع: ابتدایی پایه: اول درس: ریاضی تعداد سوالات: ۱۸ واحد نمایندگی:


۲

۱۷- شکل زیر از چند چوب کبریت ساخته شده است؟



۳

۱۸- ۶ اختلاف در دو تصویر زیر وجود دارد. آن‌ها را مشخص کنید.



🌀 پیروز و سربلند باشید 🌀

دپارتمان ابتدایی